

932

825(BR)

2019

सामाजिक विज्ञान

(ऐतिहासिक एवं सांस्कृतिक विरासत, पर्यावरणीय अध्ययन,
नागरिक जीवन एवं आर्थिक विकास)

समय : तीन घण्टे 15 मिनट] [पूर्णांक : 70

नोट : प्रारम्भ के 15 मिनट परीक्षार्थियों को प्रश्नपत्र
पढ़ने के लिए निर्धारित हैं ।

निर्देश : i) यह प्रश्नपत्र दो खण्डों के एवं ख में
विभाजित है। प्रत्येक खण्ड के सभी प्रश्न एक
साथ हल करना आवश्यक है। प्रत्येक खण्ड
का उत्तर नए पृष्ठ से प्रारम्भ किया जाय।

XVVIII812

VERTEXAL

[Turn over

- ii) प्रत्येक प्रश्न के लिए निर्धारित अंक उसके सम्मुख अंकित हैं।
- iii) प्रश्नपत्र में चार प्रकार के प्रश्न हैं — बहुविकल्पीय, अति लघु उत्तरीय, लघु उत्तरीय व विस्तृत उत्तरीय, जिनके सम्बन्ध में निर्देश उनके आरम्भ में दिये गये हैं।
- iv) क तथा ख खण्डों हेतु दिये गये मानचित्रों को उत्तर-पुस्तिका में मजबूती के साथ संलग्न करना आवश्यक है।
- v) दृष्टिबाधित परीक्षार्थियों के लिये मानचित्र कार्य के स्थान पर अलग से खण्ड - क में प्रश्न संख्या 14 तथा खण्ड - ख में प्रश्न संख्या 28 के उत्तर लिखने के लिये दिये गये हैं।

खण्ड - क

(बहुविकल्पीय प्रश्न)

निर्देश : निम्नलिखित विकल्पों में से सही उत्तर चुनकर अपनी उत्तर-पुस्तिका में लिखिए :

1. कृका आन्दोलन किसने प्रारम्भ किया था ?
 - (क) सन्त गुरु राम सिंह
 - (ख) लाला हरदयाल
 - (ग) सरदार भगत सिंह
 - (घ) बाल गंगाधर तिलक। 1
2. गुट निरपेक्ष आन्दोलन का प्रथम शिखर सम्मेलन हुआ था
 - (क) नई दिल्ली में
 - (ख) बेलग्रेड में
 - (ग) कोलम्बो में
 - (घ) डरबन में। 1
3. निम्नलिखित में से पंचशील सिद्धान्त के प्रतिपादक कौन थे ?
 - (क) जवाहरलाल नेहरू
 - (ख) महात्मा गाँधी
 - (ग) सुभाष चन्द्र बोस
 - (घ) भीमराव रामजी आम्बेडकर। 1

XV VII 812

[Turn over

4. रूस में क्रान्ति कब हुई थी ?
- (क) 1817 ई०
- (ख) 1917 ई०
- (ग) 1717 ई०
- (घ) 1927 ई०।
5. 'नई दुनिया' की खोज की
- (क) वास्को डि गामा ने
- (ख) मैगलेन ने
- (ग) केल्विन ने
- (घ) कोलम्बस ने।
6. राज्यसभा का पदेन सभापति होता है
- (क) प्रधानमंत्री
- (ख) उप-राष्ट्रपति
- (ग) राष्ट्रपति
- (घ) लोकसभा का स्पीकर।

(अति लघु उत्तरीय प्रश्न)

7. भारत में राज्यपाल की नियुक्ति कौन करता है ? उसके कार्यकाल की अवधि क्या है ? 1 + 1
8. द्वितीय विश्व युद्ध के दो कारण लिखिए। 1 + 1
9. अमेरिका की खोज किसने एवं कब की थी ? 1 + 1

(लघु उत्तरीय प्रश्न)

10. द्वितीय विश्वयुद्ध के किन्हीं तीन कारणों का उल्लेख कीजिए। 1 + 1 + 1

अथवा

औद्योगिक क्रांति के किन्हीं तीन कारणों का उल्लेख कीजिए। 1 + 1 + 1

11. संयुक्त राष्ट्र के तीन प्रमुख अंगों के नाम लिखिए।

1 + 1 + 1

अथवा

भारत की वर्तमान विदेश नीति की किन्हीं तीन विशेषताएँ बताइए। 1 + 1 + 1

(दीर्घ उत्तरीय प्रश्न)

12. भारतीय स्वतंत्रता संग्राम में सुभाषचन्द्र बोस के योगदान की विवेचना कीजिए। 6

अथवा

चन्द्रशेखर आजाद कौन थे ? भारतीय स्वतंत्रता संग्राम में उनकी भूमिका का उल्लेख कीजिए। 2 + 4

13. उन तीन परिस्थितियों को समझाइए जिनमें भारत के राष्ट्रपति अपनी आपातकालीन शक्तियों का प्रयोग कर सकता है। 2 + 2 + 2

अथवा

राष्ट्रसंघ की स्थापना क्यों की गई ? इसके प्रमुख उद्देश्यों का उल्लेख कीजिए। 2 + 4

(मानचित्र सम्बन्धी प्रश्न)

निर्देश : निम्नलिखित स्थानों को भारत के रेखा मानचित्र में
 ● चिह्न द्वारा नाम सहित दर्शाइए। सही नाम तथा
 सही अंकन के लिये $\frac{1}{2}$, $\frac{1}{2}$ अंक निर्धारित है :

14. (i) वह नगर जहाँ इन्दिरा गाँधी की हत्या हुई थी। $\frac{1}{2} + \frac{1}{2}$

- (ii) वह स्थान जहाँ स्वर्ण मन्दिर स्थित है। $\frac{1}{2} + \frac{1}{2}$

(iii) वह स्थान जहाँ पर महात्मा गाँधी ने नमक कानून तोड़ा था। $\frac{1}{2} + \frac{1}{2}$

(iv) वह स्थान जहाँ प्रसिद्ध सूर्य मन्दिर स्थित है। $\frac{1}{2} + \frac{1}{2}$

(v) वह जनपद जहाँ चौरी चौरा काण्ड हुआ था।

$$\frac{1}{2} + \frac{1}{2}$$

(केवल दृष्टिबाधित परीक्षार्थियों के लिये

मानचित्र कार्य के विकल्प के रूप में)

निर्देश : निम्नलिखित प्रश्न मानचित्र कार्य के विकल्प स्वरूप हैं। इन प्रश्नों के उत्तर अपनी उत्तर-पुस्तिका में लिखिए। मानचित्र का प्रयोग न कीजिए।

14. (i) इन्दिरा गाँधी की हत्या किस नगर में हुई थी ? 1
- (ii) स्वर्ण मन्दिर किस नगर में स्थित है ? 1
- (iii) महात्मा गाँधी ने किस स्थान पर नमक कानून तोड़ा था ? 1
- (iv) प्रसिद्ध सूर्य मन्दिर कहाँ स्थित है ? 1
- (v) चौरी चौरा काण्ड किस जनपद में हुआ था ? 1

खण्ड - ख

(बहुविकल्पीय प्रश्न)

निर्देश : निम्नलिखित विकल्पों में से सही उत्तर चुनकर अपनी उत्तर-पुस्तिका में लिखिए :

15. भारत में सबसे बड़ा डेल्टा है
 (क) महानदी का डेल्टा
 (ख) सुन्दरवन का डेल्टा
 (ग) कृष्णा नदी का डेल्टा
 (घ) कावेरी नदी का डेल्टा। 1
16. चाय की खेती के लिए कौन मिट्टी उपयुक्त है ?
 (क) पर्वतीय मिट्टी
 (ख) लाल मिट्टी
 (ग) जलोढ़ मिट्टी
 (घ) लैटराइट मिट्टी। 1
17. उत्तर रेलवे का मुख्यालय कहाँ स्थित है ?
 (क) दिल्ली में
 (ख) कोलकाता में
 (ग) मुम्बई में
 (घ) अमृतसर में। 1

18. वस्तु-विनिमय प्रणाली को कहते हैं

- (क) प्रत्यक्ष विनिमय
- (ख) अप्रत्यक्ष विनिमय
- (ग) मौद्रिक विनिमय
- (घ) क्रय-विक्रय।

1

19. भारत में योजना आयोग की स्थापना की गयी थी

- (क) 1952 में
- (ख) 1951 में
- (ग) 1950 में
- (घ) 1949 में।

1

20. निम्नलिखित में से कौन आधारभूत उद्योग है ?

- (क) कागज उद्योग
- (ख) चीनी उद्योग
- (ग) लौह-इस्पात उद्योग
- (घ) ऐल्युमिनियम उद्योग।

1

XVVII812

[Turn over

(अति लघु उत्तरीय प्रश्न)

21. भारत में वर्षा की दो विशेषताएँ लिखिए। 1 + 1
22. उत्तर प्रदेश में तेल-शोधनशाला कहाँ स्थित है ? उसके महत्व पर प्रकाश डालिए। 1 + 1
23. हरित क्रान्ति क्या है ? उसके लाभों का उल्लेख कीजिए। 1 + 1

(लघु उत्तरीय प्रश्न)

24. भारत में मृदा संरक्षण के दो उपायों का वर्णन कीजिए। 1½ + 1½

अथवा

भारत में धीमी औद्योगिक प्रगति के लिए उत्तरदायी तीन प्रमुख कारणों का उल्लेख कीजिए। • 1 + 1 + 1

25. विकासशील देशों की तीन विशेषताएँ लिखिए। 1 + 1 + 1

अथवा

लगान को परिभाषित कीजिए और रिकार्डों के लगान सिद्धान्त को स्पष्ट कीजिए। 1 + 2

(दीर्घ उत्तरीय प्रश्न)

26. भारतीय जलवायु को प्रभावित करने वाले छः कारकों का वर्णन कीजिए। $1 + 1 + 1 + 1 + 1 + 1$

अथवा

प्रत्यक्ष कर क्या है ? प्रत्यक्ष कर के गुण और दोषों को लिखिए। $2 + 2 + 2$


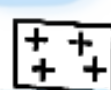

27. भारतीय वनों के हास के कारणों और प्रभावों का वर्णन कीजिए। $3 + 3$

अथवा

वस्तु-विनिमय से आप क्या समझते हैं ? इसकी असुविधाओं की विवेचना कीजिए। $2 + 4$

(मानचित्र कार्य)

निर्देश : दिये गये भारत के मानचित्र में निम्नलिखित को दर्शाइए :

28. (i) नर्मदा नदी  चिह्न द्वारा नाम सहित। $\frac{1}{2} + \frac{1}{2}$
- (ii) काली मिट्टी का क्षेत्र  चिह्न द्वारा। 1
- (iii) दिल्ली  चिह्न द्वारा नाम सहित। $\frac{1}{2} + \frac{1}{2}$

XVVII812

[Turn over

(iv) सीमेंट उद्योग का एक केन्द्र • चिह्न द्वारा नाम सहित। $\frac{1}{2} + \frac{1}{2}$

(v) कोच्चि बन्दरगाह Δ चिह्न द्वारा नाम सहित।

$\frac{1}{2} + \frac{1}{2}$

(केवल दृष्टिबाधित परीक्षार्थियों के लिये
मानचित्र कार्य के विकल्प के रूप में)

निर्देश : निम्नलिखित प्रश्नों के उत्तर अपनी उत्तर-पुस्तिका में लिखिए। मानचित्र का प्रयोग न कीजिए।

28. (i) भारत की राजधानी का नाम लिखिए। 1
- (ii) नेपालगढ़ क्यों प्रसिद्ध है ? 1
- (iii) भाखड़ा नांगल बाँध किस नदी पर बना है ? 1
- (iv) जयपुर किस राज्य में स्थित है ? 1
- (v) किसी एक तेल शोधक कारखाना का नाम लिखिए। 1

VERTEXAL